



# केन्द्रीय रिजर्व पुलिस बल CENTRAL RESERVE POLICE FORCE

Test Date	22/02/2023
Test Time	12:30 PM - 02:00 PM
Subject	Head Constable Ministerial

## Section : Hindi Language

Q.1 मैं क्रिकेट \_\_\_\_\_। वाक्य के रिक्त स्थान को इच्छाबोधक संयुक्त क्रिया से पूर्ण करें।

- Ans
- A. खेल चुका हूँ
  - B. खेलना चाहता हूँ
  - C. खेल सकता हूँ
  - D. खेला करता हूँ

Question ID : 630680175740

Status : Not Answered

Chosen Option : --

Q.2 'उनकी आपस में घनिष्ठ मैत्रता थी।' वाक्य के किस अंश में वर्तनी अशुद्धि है?

- Ans
- A. उनकी
  - B. घनिष्ठ
  - C. आपस में
  - D. मैत्रता थी।

Question ID : 630680175726

Status : Not Answered

Chosen Option : --

Q.3 'इस लोक से संबंध रखने वाला' वाक्यांश के लिए एक शब्द होगा-

- Ans
- A. आध्यात्मिक
  - B. पारलौकिक
  - C. स्वर्गिक
  - D. ऐहलौकिक

Question ID : 630680175736

Status : Not Answered

Chosen Option : --

Q.4 'व्यापार में मुझे हानी उठानी पड़ी थी।' वाक्य के किस अंश में वर्तनी अशुद्धि है?

- Ans
- A. व्यापार में
  - B. पड़ी थी।
  - C. मुझे हानी
  - D. उठानी

Question ID : 630680175724

Status : Not Answered

Chosen Option : --

Q.5 'जो भूमि उपजाऊ हो' वाक्यांश के लिए एक शब्द होगा-

- Ans
- A. उर्वरा
  - B. मृदा
  - C. ऊसर
  - D. बंजर

Question ID : 630680175735

Status : Not Answered

Chosen Option : --

Q.6 'खनक' किसका पर्यायवाची है?

- Ans
- A. धतूरा
  - B. चन्द्र
  - C. स्वर्ण
  - D. चोर



Question ID : 630680175721

Status : Not Answered

Chosen Option : --

Q.7 संदिग्ध भूत काल का वाक्य कौन सा है?

- Ans
- A. नौकर आया था।
  - B. नौकर आया होगा।
  - C. नौकर आता होगा।
  - D. नौकर आया।

Question ID : 630680175738

Status : Not Answered

Chosen Option : --

Q.8 'खट्कोण में कितनी भुजाएँ होती हैं?' वाक्य के किस अंश में वर्तनी अशुद्धि है?

- Ans
- A. होती हैं?
  - B. भुजाएँ
  - C. में कितनी
  - D. खट्कोण

Question ID : 630680175725

Status : Not Answered

Chosen Option : --

Q.9 कवि ने गीत की कुछ \_\_\_\_\_ सुनाई। वाक्य के रिक्त स्थान के लिए उपयुक्त शब्द है-

- Ans  A. लड़ियाँ  
 B. कड़ियाँ  
 C. पदबंध  
 D. झड़ियाँ

Question ID : 630680175732  
Status : Not Answered  
Chosen Option : --

Q.10 'मेरा पड़ोसी पैसे वाला तो है पर है मूर्ख।' वाक्य के रेखांकित अंश को किस लोकोक्ति से प्रतिस्थापित किया जा सकता है?

- Ans  A. आँख का अंधा नाम नयनसुख  
 B. गाँठ का पूरा आँख का अंधा  
 C. गिरहकट का भाई गठकट  
 D. अंधा बगुला कीचड़ खाए

Question ID : 630680175729  
Status : Not Answered  
Chosen Option : --

Q.11 नेता ने \_\_\_\_\_ बहुमत से चुनाव जीता। वाक्य के रिक्त स्थान के लिए उपयुक्त शब्द है-

- Ans  A. भीषण  
 B. प्रचंड  
 C. तीक्ष्ण  
 D. भारी



INDIA

Question ID : 630680175733  
Status : Not Answered  
Chosen Option : --

Q.12 भारतीय फौज ने सीमा पर गोलियों की \_\_\_\_\_ कर दी। वाक्य के रिक्त स्थान के लिए उपयुक्त शब्द है-

- Ans  A. बौछार  
 B. लड़ाई  
 C. घमासान  
 D. बाढ़

Question ID : 630680175731  
Status : Not Answered  
Chosen Option : --

Q.13 'प्रज्ञाचक्षु' का समानार्थी शब्द कौन सा है?

- Ans  A. दूरदर्शी  
 B. नेत्रहीन  
 C. प्रत्युत्पन्नमति  
 D. विद्वान

Question ID : 630680175723  
Status : Not Answered  
Chosen Option : --

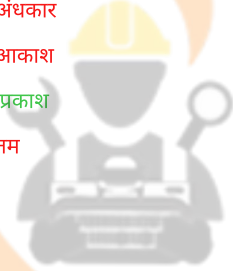
Q.14 अपनी बात कहो \_\_\_\_\_ चले जाओ। वाक्य के रिक्त स्थान को विभाजक समुच्चयबोधक से पूर्ण करें-

- Ans  A. परंतु  
 B. तथा  
 C. अथवा  
 D. इसलिए

Question ID : 630680175739  
Status : Not Answered  
Chosen Option : --

Q.15 'तिमिर' का विलोम क्या होगा?

- Ans  A. अंधकार  
 B. आकाश  
 C. प्रकाश  
 D. तम



Question ID : 630680175722  
Status : Not Answered  
Chosen Option : --

Q.16 पदक्रम की दृष्टि से कौन सा वाक्य सही है?

- Ans  A. गीता क्या आ रही है?  
 B. गीता आ रही है क्या?  
 C. क्या आ रही है गीता?  
 D. क्या गीता आ रही है?

Question ID : 630680175734  
Status : Not Answered  
Chosen Option : --

Q.17 बहाना करना उसकी आदत है। वाक्य के रेखांकित अंश को प्रतिस्थापित करने के लिए सही मुहावरा कौन सा है?

- Ans  A. बात बढ़ाना  
 B. बात तक न पूछना  
 C. बात चलाना  
 D. बात बनाना

Question ID : 630680175727  
Status : Not Answered  
Chosen Option : --



Q.18 'न पूरी होने वाली शर्त' के लिए उपयोग में लायी जाने वाली सही लोकोक्ति कौन सी है?

- Ans  A. न सौ मन तेल होगा न सीता नाचेगी  
 B. न नौ मन तेल होगा न राधा नाचेगी  
 C. न सौ मन तेल होगा न राधा नाचेगी  
 D. न नौ मन तेल होगा न सीता नाचेगी

Question ID : 630680175728

Status : Not Answered

Chosen Option : --

Q.19 पदक्रम की दृष्टि से कौन सा वाक्य सही है?

- Ans  A. मेरी लाज रखो, हे बहन।  
 B. हे बहन, मेरी लाज रखो।  
 C. हे बहन, लाज रखो मेरी।  
 D. लाज रखो मेरी, हे बहन।

Question ID : 630680175730

Status : Not Answered

Chosen Option : --

Q.20 सामान्य वर्तमान काल का वाक्य कौन सा है?

- Ans  A. गायक गीत गा चुका है।  
 B. गायक गीत गाता है।  
 C. गायक गीत गा रहा है।  
 D. गायक ने गीत गाया है।

Question ID : 630680175737

Status : Not Answered

Chosen Option : --

### Comprehension:

निम्नलिखित गद्यांश के आधार पर दिये गए प्रश्नों के उत्तर दीजिए।

बीसवीं सदी के उत्तरार्द्ध में वैश्विक परिदृश्य तेजी से बदला है। आधुनिक काल में मानव सभ्यता विकास के नित नए सोपान पर पहुँचती जा रही है। विज्ञान के विकास के साथ औद्योगीकरण, नगरीकरण ने मानव सभ्यता को विकास के नये सोपान पर पहुँचाया। औद्योगीकरण ने पूँजीवाद को जन्म दिया। पूँजीवाद के प्रसार के साथ दुनिया में उपनिवेशवाद और साम्राज्यवाद को बढ़ावा मिला। दूसरी तरफ राजनीतिक चिन्तन में व्यक्तिवाद, उदारवाद के साथ लोकतंत्र का उदय भी आधुनिककाल की महत्वपूर्ण वैश्विक परिघटना है। राष्ट्र-राज्यों का उदय हुआ जिसका विकृत रूप प्रसारवाद के चलते साम्राज्यवाद में तब्दील हो गया। बीसवीं शताब्दी के पूर्वार्द्ध में दो विश्व युद्ध इसकी चरम परिणति थे। दूसरी तरफ बीसवीं शताब्दी में ही मार्क्सवाद ने दुनिया के बड़े हिस्से का तंत्र ही बदल डाला। डार्विन के विकासवादी सिद्धान्त, फ्रायड के मनोविश्लेषण और मार्क्स के साम्यवाद ने आधुनिक मानव सभ्यता को अपने-अपने तरीके से गहरे रूप में प्रभावित किया।

### SubQuestion No : 21

Q.21 आधुनिक काल की महत्वपूर्ण वैश्विक परिघटना नहीं है-

- Ans  A. सामंतवाद  
 B. लोकतंत्र  
 C. व्यक्तिवाद  
 D. उदारवाद

Question ID : 630680175742

Status : Not Answered

Chosen Option : --

**Comprehension:**

निम्नलिखित गद्यांश के आधार पर दिये गए प्रश्नों के उत्तर दीजिए।

बीसवीं सदी के उत्तरार्द्ध में वैश्विक परिदृश्य तेजी से बदला है। आधुनिक काल में मानव सभ्यता विकास के नित नए सोपान पर पहुँचती जा रही है। विज्ञान के विकास के साथ औद्योगीकरण, नगरीकरण ने मानव सभ्यता को विकास के नये सोपान पर पहुँचाया। औद्योगीकरण ने पूँजीवाद को जन्म दिया। पूँजीवाद के प्रसार के साथ दुनिया में उपनिवेशवाद और साम्राज्यवाद को बढ़ावा मिला। दूसरी तरफ राजनीतिक चिन्तन में व्यक्तिवाद, उदारवाद के साथ लोकतंत्र का उदय भी आधुनिककाल की महत्वपूर्ण वैश्विक परिघटना है। राष्ट्र-राज्यों का उदय हुआ जिसका विकृत रूप प्रसारवाद के चलते साम्राज्यवाद में तबदील हो गया। बीसवीं शताब्दी के पूर्वार्द्ध में दो विश्व युद्ध इसकी चरम परिणति थे। दूसरी तरफ बीसवीं शताब्दी में ही मार्क्सवाद ने दुनिया के बड़े हिस्से का तंत्र ही बदल डाला। डार्विन के विकासवादी सिद्धान्त, फ्रायड के मनोविश्लेषण और मार्क्स के साम्यवाद ने आधुनिक मानव सभ्यता को अपने-अपने तरीके से गहरे रूप में प्रभावित किया।

**SubQuestion No : 22**

Q.22 राष्ट्र-राज्यों के प्रसार का विकृत रूप है-

- Ans
- A. लोकतंत्र
  - B. मार्क्सवाद
  - C. साम्राज्यवाद
  - D. सामंतवाद

Question ID : 630680175743

Status : Not Answered

Chosen Option : --

**Comprehension:**

निम्नलिखित गद्यांश के आधार पर दिये गए प्रश्नों के उत्तर दीजिए।

बीसवीं सदी के उत्तरार्द्ध में वैश्विक परिदृश्य तेजी से बदला है। आधुनिक काल में मानव सभ्यता विकास के नित नए सोपान पर पहुँचती जा रही है। विज्ञान के विकास के साथ औद्योगीकरण, नगरीकरण ने मानव सभ्यता को विकास के नये सोपान पर पहुँचाया। औद्योगीकरण ने पूँजीवाद को जन्म दिया। पूँजीवाद के प्रसार के साथ दुनिया में उपनिवेशवाद और साम्राज्यवाद को बढ़ावा मिला। दूसरी तरफ राजनीतिक चिन्तन में व्यक्तिवाद, उदारवाद के साथ लोकतंत्र का उदय भी आधुनिककाल की महत्वपूर्ण वैश्विक परिघटना है। राष्ट्र-राज्यों का उदय हुआ जिसका विकृत रूप प्रसारवाद के चलते साम्राज्यवाद में तबदील हो गया। बीसवीं शताब्दी के पूर्वार्द्ध में दो विश्व युद्ध इसकी चरम परिणति थे। दूसरी तरफ बीसवीं शताब्दी में ही मार्क्सवाद ने दुनिया के बड़े हिस्से का तंत्र ही बदल डाला। डार्विन के विकासवादी सिद्धान्त, फ्रायड के मनोविश्लेषण और मार्क्स के साम्यवाद ने आधुनिक मानव सभ्यता को अपने-अपने तरीके से गहरे रूप में प्रभावित किया।

**SubQuestion No : 23**

Q.23 'उत्तरार्द्ध' का विलोम शब्द क्या होगा?

- Ans
- A. दक्षिणार्द्ध
  - B. संपूर्ण
  - C. पूर्वार्द्ध
  - D. अर्द्ध

Question ID : 630680175746

Status : Not Answered

Chosen Option : --

**Comprehension:**

निम्नलिखित गद्यांश के आधार पर दिये गए प्रश्नों के उत्तर दीजिए।

बीसवीं सदी के उत्तरार्द्ध में वैश्विक परिदृश्य तेजी से बदला है। आधुनिक काल में मानव सभ्यता विकास के नित नए सोपान पर पहुँचती जा रही है। विज्ञान के विकास के साथ औद्योगीकरण, नगरीकरण ने मानव सभ्यता को विकास के नये सोपान पर पहुँचाया। औद्योगीकरण ने पूँजीवाद को जन्म दिया। पूँजीवाद के प्रसार के साथ दुनिया में उपनिवेशवाद और साम्राज्यवाद को बढ़ावा मिला। दूसरी तरफ राजनीतिक चिन्तन में व्यक्तिवाद, उदारवाद के साथ लोकतंत्र का उदय भी आधुनिककाल की महत्वपूर्ण वैश्विक परिघटना है। राष्ट्र-राज्यों का उदय हुआ जिसका विकृत रूप प्रसारवाद के चलते साम्राज्यवाद में तबदील हो गया। बीसवीं शताब्दी के पूर्वार्द्ध में दो विश्व युद्ध इसकी चरम परिणति थे। दूसरी तरफ बीसवीं शताब्दी में ही मार्क्सवाद ने दुनिया के बड़े हिस्से का तंत्र ही बदल डाला। डार्विन के विकासवादी सिद्धान्त, फ्रायड के मनोविश्लेषण और मार्क्स के साम्यवाद ने आधुनिक मानव सभ्यता को अपने-अपने तरीके से गहरे रूप में प्रभावित किया।

**SubQuestion No : 24**

Q.24 'सोपान' का अर्थ होता है-

- Ans
- A. सरोवर
  - B. शिखर
  - C. आकाश
  - D. सीढ़ी

Question ID : 630680175745

Status : Not Answered

Chosen Option : --

**Comprehension:**

निम्नलिखित गद्यांश के आधार पर दिये गए प्रश्नों के उत्तर दीजिए।

बीसवीं सदी के उत्तरार्द्ध में वैश्विक परिदृश्य तेजी से बदला है। आधुनिक काल में मानव सभ्यता विकास के नित नए सोपान पर पहुँचती जा रही है। विज्ञान के विकास के साथ औद्योगीकरण, नगरीकरण ने मानव सभ्यता को विकास के नये सोपान पर पहुँचाया। औद्योगीकरण ने पूँजीवाद को जन्म दिया। पूँजीवाद के प्रसार के साथ दुनिया में उपनिवेशवाद और साम्राज्यवाद को बढ़ावा मिला। दूसरी तरफ राजनीतिक चिन्तन में व्यक्तिवाद, उदारवाद के साथ लोकतंत्र का उदय भी आधुनिककाल की महत्वपूर्ण वैश्विक परिघटना है। राष्ट्र-राज्यों का उदय हुआ जिसका विकृत रूप प्रसारवाद के चलते साम्राज्यवाद में तबदील हो गया। बीसवीं शताब्दी के पूर्वार्द्ध में दो विश्व युद्ध इसकी चरम परिणति थे। दूसरी तरफ बीसवीं शताब्दी में ही मार्क्सवाद ने दुनिया के बड़े हिस्से का तंत्र ही बदल डाला। डार्विन के विकासवादी सिद्धान्त, फ्रायड के मनोविश्लेषण और मार्क्स के साम्यवाद ने आधुनिक मानव सभ्यता को अपने-अपने तरीके से गहरे रूप में प्रभावित किया।

**SubQuestion No : 25**

Q.25 पूँजीवाद किसका परिणाम है?

- Ans
- A. मवेशीकरण
  - B. औद्योगीकरण
  - C. कृषि
  - D. मनोविश्लेषण

Question ID : 630680175744

Status : Not Answered

Chosen Option : --

**Q.1** The following sentence has been split into four segments. Identify the segment that contains a grammatical error.  
He has been selling / five cartons of juice / since he opened his shop / in the morning.

- Ans
- A. He has been selling
  - B. since he opened his shop
  - C. five cartons of juice
  - D. in the morning

Question ID : 630680175764  
Status : Answered  
Chosen Option : A

**Q.2** Select the most appropriate option to fill in the blank.  
Having seen the advertisement, he applied for the job \_\_\_\_\_.

- Ans
- A. purposely
  - B. promptly
  - C. proudly
  - D. properly

Question ID : 630680175760  
Status : Answered  
Chosen Option : D

**Q.3** Select the most appropriate option to fill in the blank.  
No one has yet discovered \_\_\_\_\_ cure for the common cold.

- Ans
- A. a
  - B. an
  - C. one
  - D. No word required

Question ID : 630680175763  
Status : Answered  
Chosen Option : A

**Q.4** Select the most appropriate option to fill in the blanks.  
The king was clothed in fair \_\_\_\_\_ and sat on the \_\_\_\_\_ holding the scepter in his hand.

- Ans
- A. apparel, royalty
  - B. scraps, recliner
  - C. garments, authority
  - D. raiment, throne

Question ID : 630680175757  
Status : Answered  
Chosen Option : B

Q.5 Select the option that can be used as a one-word substitute for the given group of words.  
A close fitting cover for a sword

- Ans
- A. Spear
  - B. Scalpel
  - C. Quiver
  - D. Scabbard

Question ID : 630680175759  
Status : Answered  
Chosen Option : D

Q.6 Select the INCORRECTLY spelt word.

- Ans
- A. Emperer
  - B. Excess
  - C. Endure
  - D. Execute

Question ID : 630680175751  
Status : Answered  
Chosen Option : A

Q.7 Select the most appropriate option to fill in the blanks.  
Raman earned a meagre salary working as a labourer. When he thought of his \_\_\_\_\_, he became \_\_\_\_\_ and wondered how long he would be able to sustain himself.

- Ans
- A. lack, shabby
  - B. scarcity, worthless
  - C. shortage, feeble
  - D. poverty, miserable

INDIA

Question ID : 630680175755  
Status : Answered  
Chosen Option : D

Q.8 Sentences of a paragraph are given below in jumbled order. Arrange the sentences in the correct order to form a meaningful and coherent paragraph.  
A. He never said a brilliant or even a sensible thing in his life.  
B. Ultimately he became nothing, a delightful, ineffectual young man with a perfect profile and no profession.  
C. Intellectually, we must admit, Hughie was not of much importance.  
D. However, he was wonderfully good-looking, with his crisp brown hair and his clear-cut profile .

- Ans
- A. CDBA
  - B. ACBD
  - C. BCDA
  - D. CADB

Question ID : 630680175754  
Status : Answered  
Chosen Option : A

Q.9 Select the most appropriate idiom that can substitute the underlined segment in the given sentence.

I was puzzled and didn't know what to do the moment I realised that my credit card had been stolen.

- Ans
- A. at loggerheads
  - B. at arm's length
  - C. at point blank
  - D. at my wit's end

Question ID : 630680175749  
Status : Marked For Review  
Chosen Option : D

Q.10 Select the most appropriate idiom that can substitute the underlined segment in the given sentence.

Why don't you act promptly and ask for a promotion while your boss is favourably inclined towards you?

- Ans
- A. strike while the iron is hot
  - B. play the second fiddle
  - C. make much ado about nothing
  - D. weather the storm

Question ID : 630680175750  
Status : Answered  
Chosen Option : A

Q.11 Select the most appropriate ANTONYM of the given word.  
Enchanting

- Ans
- A. Fascinating
  - B. Magical
  - C. Boring
  - D. Lively

INDIA

Question ID : 630680175748  
Status : Answered  
Chosen Option : C

Q.12 Select the most appropriate option to fill in the blank.  
Noise pollution should be curbed in \_\_\_\_\_ capital.

- Ans
- A. a
  - B. the
  - C. an
  - D. No word required

Question ID : 630680175762  
Status : Answered  
Chosen Option : B

Q.13 Parts of the following sentence have been underlined and given as options. Select the option that contains an error.

He was sleeping for two hours when someone knocked at the door.

- Ans
- A. at the door
  - B. for two hours
  - C. He was sleeping
  - D. when someone knocked

Question ID : 630680175765  
Status : Answered  
Chosen Option : C

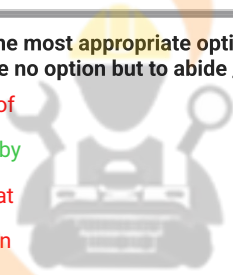
Q.14 Select the most appropriate synonym of the given word.  
Slacken

- Ans
- A. Irritate
  - B. Decrease
  - C. Tighten
  - D. Increase

Question ID : 630680175747  
Status : Answered  
Chosen Option : B

Q.15 Select the most appropriate option to fill in the blank.  
You have no option but to abide \_\_\_\_\_ the rules.

- Ans
- A. of
  - B. by
  - C. at
  - D. in



INDIA

Question ID : 630680175761  
Status : Answered  
Chosen Option : B

Q.16 Select the most appropriate option to fill in the blanks.  
They reached the \_\_\_\_\_ of the forest, and saw, far down in the valley beneath them, the lights of the village in which they \_\_\_\_\_.

- Ans
- A. verge, inhabited
  - B. outskirts, dwelt
  - C. boundary, perched
  - D. interior, occupied

Question ID : 630680175756  
Status : Answered  
Chosen Option : A

Q.17 Select the option that can be used as a one-word substitute for the given group of words.  
Spouse of a reigning monarch

- Ans  A. Intern  
 B. Accomplice  
 C. Consort  
 D. Companion

Question ID : 630680175758  
Status : Answered  
Chosen Option : A

Q.18 Select the INCORRECTLY spelt word.

- Ans  A. Accommodate  
 B. Reservoir  
 C. Exorbitant  
 D. Influential

Question ID : 630680175752  
Status : Answered  
Chosen Option : B

Q.19 Sentences of a paragraph are given below in jumbled order. Arrange the sentences in the correct order to form a meaningful and coherent paragraph.

- A. Sweet-williams grew there, and Gilly-flowers, and Shepherds'-purses, and Fair-maids of France.  
B. There was an honest little fellow named Hans.  
C. In all the country-side there was no garden so lovely as his.  
D. He lived in a tiny cottage all by himself, and every day he worked in his garden.

- Ans  A. ACBD  
 B. BDCA  
 C. DCAB  
 D. BCAD

Question ID : 630680175753  
Status : Answered  
Chosen Option : B

Q.20 The following sentence has been split into four segments. Identify the segment that contains a grammatical error.

Three hours / will be passing / when the bell / rings.

- Ans  A. will be passing  
 B. rings  
 C. when the bell  
 D. Three hours

Question ID : 630680175766  
Status : Answered  
Chosen Option : A



**Comprehension:**

Read the given passage and answer the questions that follow.

My Uncle Wilbur used to spend hours every day checking on the lightning rods that stood guard on the roof of his house. We get a lot of storms here in our state. Sometimes, we see wind up to sixty miles per hour and baseball-size hail. Lightning, Uncle Wilbur would say, is a living thing, and like a cat, it will strike anything that moves. You'd better not tempt it, he always told us. He advised my cousins and me to always be mindful of the nearest sheltering tree. He said we should be prepared to drop to the ground like a hot potato at the first sound of thunder. Knowing that lightning is attracted to the tallest thing around, Uncle Wilbur worried constantly about my cousin Jared, who, at sixteen, was 6'2" and still growing.

Uncle Wilbur did not take kindly to the power company man who came knocking one day in 1936. This was the year the government launched a campaign to bring electricity to rural areas like ours. Most people, like Uncle Wilbur, were a little wary of having electricity in their homes. Many of us had running water, and we just weren't sure that the two mixed. Nevertheless, Uncle Wilbur was downright floored when the man said he wanted to string power lines up to the house. Nearly losing his temper, Uncle Wilbur exclaimed, "Here I am doing everything in my power to keep from getting struck by lightning, and you want to bring it right to my doorstep?" He sent the man on his way with a "No, thank you," and a "Good day, sir," but in the months that followed, we all eventually relented and let in the light. I must admit, playing checkers in the dark is a talent you can easily lose without daily practice.

SubQuestion No : 21

Q.21 Why did Uncle Wilbur say that lightning is a living thing?

- Ans
- A. One can easily tempt it.
  - B. One needs to guard against it.
  - C. It can strike like a cat anytime.
  - D. It is attracted towards tall things.



Question ID : 630680175768

Status : Answered

Chosen Option : C

INDIA

**Comprehension:**

Read the given passage and answer the questions that follow.

My Uncle Wilbur used to spend hours every day checking on the lightning rods that stood guard on the roof of his house. We get a lot of storms here in our state. Sometimes, we see wind up to sixty miles per hour and baseball-size hail. Lightning, Uncle Wilbur would say, is a living thing, and like a cat, it will strike anything that moves. You'd better not tempt it, he always told us. He advised my cousins and me to always be mindful of the nearest sheltering tree. He said we should be prepared to drop to the ground like a hot potato at the first sound of thunder. Knowing that lightning is attracted to the tallest thing around, Uncle Wilbur worried constantly about my cousin Jared, who, at sixteen, was 6'2" and still growing.

Uncle Wilbur did not take kindly to the power company man who came knocking one day in 1936. This was the year the government launched a campaign to bring electricity to rural areas like ours. Most people, like Uncle Wilbur, were a little wary of having electricity in their homes. Many of us had running water, and we just weren't sure that the two mixed. Nevertheless, Uncle Wilbur was downright floored when the man said he wanted to string power lines up to the house. Nearly losing his temper, Uncle Wilbur exclaimed, "Here I am doing everything in my power to keep from getting struck by lightning, and you want to bring it right to my doorstep?" He sent the man on his way with a "No, thank you," and a "Good day, sir," but in the months that followed, we all eventually relented and let in the light. I must admit, playing checkers in the dark is a talent you can easily lose without daily practice.

SubQuestion No : 22

Q.22 The given passage is:

- Ans
- A. an autobiographical piece
  - B. a discursive passage
  - C. a character sketch
  - D. an article



Question ID : 630680175772

Status : Not Answered

Chosen Option : --

INDIA

**Comprehension:**

Read the given passage and answer the questions that follow.

My Uncle Wilbur used to spend hours every day checking on the lightning rods that stood guard on the roof of his house. We get a lot of storms here in our state. Sometimes, we see wind up to sixty miles per hour and baseball-size hail. Lightning, Uncle Wilbur would say, is a living thing, and like a cat, it will strike anything that moves. You'd better not tempt it, he always told us. He advised my cousins and me to always be mindful of the nearest sheltering tree. He said we should be prepared to drop to the ground like a hot potato at the first sound of thunder. Knowing that lightning is attracted to the tallest thing around, Uncle Wilbur worried constantly about my cousin Jared, who, at sixteen, was 6'2" and still growing.

Uncle Wilbur did not take kindly to the power company man who came knocking one day in 1936. This was the year the government launched a campaign to bring electricity to rural areas like ours. Most people, like Uncle Wilbur, were a little wary of having electricity in their homes. Many of us had running water, and we just weren't sure that the two mixed. Nevertheless, Uncle Wilbur was downright floored when the man said he wanted to string power lines up to the house. Nearly losing his temper, Uncle Wilbur exclaimed, "Here I am doing everything in my power to keep from getting struck by lightning, and you want to bring it right to my doorstep?" He sent the man on his way with a "No, thank you," and a "Good day, sir," but in the months that followed, we all eventually relented and let in the light. I must admit, playing checkers in the dark is a talent you can easily lose without daily practice.

SubQuestion No : 23

Q.23 Uncle Wilbur was against having electricity in the house because:

- Ans
- A. he believed it was as dangerous as lightning
  - B. he was worried that Jared would be at a risk
  - C. he thought the supply of water would stop
  - D. he enjoyed playing checkers in the dark



Question ID : 630680175769

Status : Answered

Chosen Option : C

INDIA

**Comprehension:**

Read the given passage and answer the questions that follow.

My Uncle Wilbur used to spend hours every day checking on the lightning rods that stood guard on the roof of his house. We get a lot of storms here in our state. Sometimes, we see wind up to sixty miles per hour and baseball-size hail. Lightning, Uncle Wilbur would say, is a living thing, and like a cat, it will strike anything that moves. You'd better not tempt it, he always told us. He advised my cousins and me to always be mindful of the nearest sheltering tree. He said we should be prepared to drop to the ground like a hot potato at the first sound of thunder. Knowing that lightning is attracted to the tallest thing around, Uncle Wilbur worried constantly about my cousin Jared, who, at sixteen, was 6'2" and still growing.

Uncle Wilbur did not take kindly to the power company man who came knocking one day in 1936. This was the year the government launched a campaign to bring electricity to rural areas like ours. Most people, like Uncle Wilbur, were a little wary of having electricity in their homes. Many of us had running water, and we just weren't sure that the two mixed. Nevertheless, Uncle Wilbur was downright floored when the man said he wanted to string power lines up to the house. Nearly losing his temper, Uncle Wilbur exclaimed, "Here I am doing everything in my power to keep from getting struck by lightning, and you want to bring it right to my doorstep?" He sent the man on his way with a "No, thank you," and a "Good day, sir," but in the months that followed, we all eventually relented and let in the light. I must admit, playing checkers in the dark is a talent you can easily lose without daily practice.

SubQuestion No : 24

Q.24 Select the most appropriate meaning of 'relented' as used in the passage.

- Ans  A. To give away  
 B. To give in  
 C. To give off  
 D. To give out



Question ID : 630680175771

Status : Answered

Chosen Option : D

**Comprehension:**

Read the given passage and answer the questions that follow.

My Uncle Wilbur used to spend hours every day checking on the lightning rods that stood guard on the roof of his house. We get a lot of storms here in our state. Sometimes, we see wind up to sixty miles per hour and baseball-size hail. Lightning, Uncle Wilbur would say, is a living thing, and like a cat, it will strike anything that moves. You'd better not tempt it, he always told us. He advised my cousins and me to always be mindful of the nearest sheltering tree. He said we should be prepared to drop to the ground like a hot potato at the first sound of thunder. Knowing that lightning is attracted to the tallest thing around, Uncle Wilbur worried constantly about my cousin Jared, who, at sixteen, was 6'2" and still growing.

Uncle Wilbur did not take kindly to the power company man who came knocking one day in 1936. This was the year the government launched a campaign to bring electricity to rural areas like ours. Most people, like Uncle Wilbur, were a little wary of having electricity in their homes. Many of us had running water, and we just weren't sure that the two mixed. Nevertheless, Uncle Wilbur was downright floored when the man said he wanted to string power lines up to the house. Nearly losing his temper, Uncle Wilbur exclaimed, "Here I am doing everything in my power to keep from getting struck by lightning, and you want to bring it right to my doorstep?" He sent the man on his way with a "No, thank you," and a "Good day, sir," but in the months that followed, we all eventually relented and let in the light. I must admit, playing checkers in the dark is a talent you can easily lose without daily practice.

SubQuestion No : 25

Q.25 Which of the following was NOT an advice given by Uncle Wilbur to safeguard against lightning?

- Ans  A. Be mindful of the nearest tree  
 B. Climb up to the tallest structure  
 C. Drop down on the floor  
 D. Do not move around

Question ID : 630680175770

Status : Answered

Chosen Option : D

Section : General Aptitude

Q.1 निम्नलिखित में से कौन-सी हिन्दुस्तानी शास्त्रीय संगीत की विधा नहीं है?

- Ans  A. ख्याल  
 B. ध्रुपद  
 C. गमका  
 D. ठुमरी

Question ID : 630680175784

Status : Answered

Chosen Option : B

Q.2 एल्लिन एक पॉलीसैकराइड है जो \_\_\_\_\_ की कोशिका भित्ति में पाया जाता है।

- Ans  A. लाल शैवाल  
 B. हरी शैवाल  
 C. कवक  
 D. भूरी शैवाल

Question ID : 630680175792

Status : Answered

Chosen Option : B

Q.3 निम्नलिखित में से कौन जनवरी 2023 में 'बल्कलाइन' ('Baulkline') NSCI अखिल भारतीय स्नूकर ओपन में विजयी हुआ?

- Ans  A. सौरव कोठारी  
 B. ओमप्रकाश अग्रवाल  
 C. लक्ष्मण रावत  
 D. आदित्य मेहता

Question ID : 630680175778  
Status : Not Answered  
Chosen Option : --

Q.4 16वीं शताब्दी में बंगाल और बिहार में सूर वंश नामक राजवंश की स्थापना किसने की थी?

- Ans  A. बाबर  
 B. शेर शाह  
 C. शाहजहाँ  
 D. अकबर

Question ID : 630680175780  
Status : Answered  
Chosen Option : B

Q.5 निम्नलिखित में से कौन सा कोशिकांग पादप कोशिका में नहीं पाया जाता है?

- Ans  A. रिक्तिका (Vacuole)  
 B. हरित लवक (Chloroplast)  
 C. लाइसोसोम (Lysosome)  
 D. कोशिका भित्ति (Cell wall)

Question ID : 630680175794  
Status : Answered  
Chosen Option : D

Q.6 भारतीय संविधान की निम्नलिखित में से कौन सी विशेषता संयुक्त राज्य अमेरिका के संविधान से ली गई है?

- Ans  A. राज्य नीति के निर्देशक सिद्धांत  
 B. मौलिक अधिकार  
 C. एकल नागरिकता  
 D. दोनों सदनों की संयुक्त बैठक

Question ID : 630680175795  
Status : Answered  
Chosen Option : B

Q.7 भूटान के साथ भारत की सीमा रेखा की लंबाई कितनी है?

- Ans  A. 599 km  
 B. 799 km  
 C. 899 km  
 D. 699 km

Question ID : 630680175790  
Status : Answered  
Chosen Option : A

Q.8 भारत के निम्नलिखित गवर्नर-जनरलों में से किसने बंगाल सती विनियमन (विनियमन XVII) पारित किया?

- Ans  A. लॉर्ड ऑकलैंड (Lord Auckland)  
 B. लॉर्ड चार्ल्स मेटकाफ (Lord Charles Metcalfe)  
 C. लॉर्ड विलियम बेंटिंक (Lord William Bentinck)  
 D. लॉर्ड एलेनबरो (Lord Ellenborough)

Question ID : 630680175781  
Status : Not Attempted and Marked For Review  
Chosen Option : --

Q.9 राष्ट्रीय अपराध रेकॉर्ड ब्यूरो (NCRB) की 'क्राइम इन इंडिया 2021' रिपोर्ट के अनुसार, भारत के किस राज्य में बलात्कार के मामलों में दूसरी सबसे बड़ी संख्या दर्ज की गई है?

- Ans  A. हिमाचल प्रदेश  
 B. ओडिशा  
 C. झारखंड  
 D. मध्य प्रदेश

INDIA

Question ID : 630680175776  
Status : Answered  
Chosen Option : C

Q.10 लोकनृत्य 'जट-जतिन' की उत्पत्ति किस राज्य में हुई थी?

- Ans  A. बिहार  
 B. गुजरात  
 C. असम  
 D. कर्नाटक

Question ID : 630680175783  
Status : Answered  
Chosen Option : A

Q.11 गृह मंत्रालय, भारत सरकार द्वारा पहला प्रशासनिक सुधार आयोग कब गठित किया गया था?

- Ans  A. 1966  
 B. 1956  
 C. 1976  
 D. 1986

Question ID : 630680175797  
Status : Not Answered  
Chosen Option : --

Q.12 जनवरी 2023 में स्टार्टअप फर्म IG ड्रोन द्वारा विकसित 5G-सक्षम ड्रोन का नाम क्या है?

- Ans  A. स्काईस्कैन (Skyscan)  
 B. स्काईवॉक (Skywalk)  
 C. स्काईहॉक (Skyhawk)  
 D. स्काईहाई (SkyHigh)

Question ID : 630680175773  
Status : Answered  
Chosen Option : C

Q.13 RBI के पहले वैश्विक हैकथॉन 'HARBINGER 2021' की थीम क्या है?

- Ans  A. दोषरहित डिजिटल भुगतान  
 B. स्मार्टर डिजिटल भुगतान  
 C. स्विफ्ट डिजिटल भुगतान  
 D. वैश्विक डिजिटल भुगतान

Question ID : 630680175785  
Status : Answered  
Chosen Option : A

Q.14 भारतीय संविधान का कौन सा अनुच्छेद संवैधानिक निकाय 'चुनाव आयोग' से संबंधित है?

- Ans  A. अनुच्छेद 330  
 B. अनुच्छेद 324  
 C. अनुच्छेद 326  
 D. अनुच्छेद 328

Question ID : 630680175796  
Status : Answered  
Chosen Option : B

Q.15 भारत में 'टिहरी' जलविद्युत संयंत्र कहाँ स्थित है?

- Ans  A. उत्तर प्रदेश  
 B. उत्तराखंड  
 C. गुजरात  
 D. पश्चिम बंगाल

Question ID : 630680175791  
Status : Answered  
Chosen Option : B



Q.16 सिखों के बीच धार्मिक सुधार 19वीं शताब्दी के अंत में शुरू हुआ था जब खालसा कॉलेज अमृतसर में वर्ष \_\_\_\_\_ में शुरू हुआ था।

- Ans  A. 1892  
 B. 1862  
 C. 1881  
 D. 1872

Question ID : 630680175782  
Status : Not Answered  
Chosen Option : --


Q.17 जनवरी 2023 में श्रीलंका के खिलाफ मैच में एक दिवसीय अंतरराष्ट्रीय क्रिकेट के इतिहास में सबसे ज्यादा रन बनाने वालों में विराट कोहली ने किसे पीछे छोड़ा?

- Ans  A. सचिन तेंडुलकर  
 B. सनथ जयसूर्या  
 C. महेला जयवर्धने  
 D. रिकी पॉटिंग

Question ID : 630680175779  
Status : Answered  
Chosen Option : A

Q.18 जनवरी 2023 में किसान पुष्पक योजना के तहत कितने गरुड़ कृषि किसान ड्रोन को ऋण प्राप्त हुआ है?

- Ans  A. 150  
 B. 100  
 C. 250  
 D. 200



INDIA

Question ID : 630680175774  
Status : Not Answered  
Chosen Option : --

Q.19 अरावली पर्वत की सबसे ऊंची चोटी की ऊंचाई कितनी है?

- Ans  A. 1522 metres  
 B. 1422 metres  
 C. 1722 metres  
 D. 1622 metres

Question ID : 630680175788  
Status : Not Answered  
Chosen Option : --

Q.20 नीति (NITI) आयोग द्वारा 2021 में जारी किए गए पहले बहु-आयामी गरीबी सूचकांक (MPI) में किस राज्य ने सबसे अधिक बहु-आयामी गरीबी दर्ज की है?

- Ans  A. बिहार  
 B. हरियाणा  
 C. उत्तर प्रदेश  
 D. राजस्थान

Question ID : 630680175787  
Status : Answered  
Chosen Option : A

Q.21 विश्व आर्थिक मंच (WEF) ने जनवरी 2023 में \_\_\_\_\_ में चौथी औद्योगिक क्रांति (C4IR) के लिए एक केंद्र की स्थापना की घोषणा की।

- Ans  A. मुंबई  
 B. बेंगलुरु  
 C. हैदराबाद  
 D. नयी दिल्ली

Question ID : 630680175775  
Status : Answered  
Chosen Option : D

Q.22 भारतीय क्रिकेट टीम ने जनवरी 2023 में वनडे (ODI) क्रिकेट में जीत के सबसे बड़े अंतर के न्यूजीलैंड के 15 वर्ष पुराने रिकॉर्ड को तोड़ते हुए श्रीलंका को कितने रन से हराया?

- Ans  A. 317 रन  
 B. 327 रन  
 C. 307 रन  
 D. 337 रन

INDIA

Question ID : 630680175777  
Status : Not Attempted and Marked For Review  
Chosen Option : --

Q.23 निम्नलिखित में से कौन सा तत्व आधुनिक आवर्त सारणी के 17वें समूह में नहीं पाया जाता है?

- Ans  A. क्लोरीन (Chlorine)  
 B. ब्रोमीन (Bromine)  
 C. टेल्यूरियम (Tellurium)  
 D. आयोडीन (Iodine)

Question ID : 630680175793  
Status : Answered  
Chosen Option : C

Q.24 कर्क रेखा भारत के कितने राज्यों से होकर गुजरती है?

- Ans  A. 6  
 B. 10  
 C. 8  
 D. 5

Question ID : 630680175789  
Status : Answered  
Chosen Option : C

Q.25 भारत के 2022-23 के केंद्रीय बजट के अनुसार, 2022-23 में राष्ट्रीय राजमार्ग नेटवर्क का विस्तार \_\_\_\_\_ तक किया जाना है।

- Ans  A. 15,000 km  
 B. 20,000 km  
 C. 25,000 km  
 D. 10,000 km

Question ID : 630680175786  
Status : Answered  
Chosen Option : B

Section : General Intelligence

Q.1 सभी उत्तर की ओर अभिमुख विद्यार्थियों की एक निश्चित संख्या की एक पंक्ति में, जतिन बाएं छोर से छठे स्थान पर बैठा है। मालिनी पंक्ति के दाएं छोर पर बैठी है। जतिन और कपिल के बीच केवल 12 विद्यार्थी बैठे हैं। जतिन, कपिल के बाईं ओर बैठा है। कपिल और शारदा के बीच केवल 7 विद्यार्थी बैठे हैं। शारदा, कपिल के दाईं ओर बैठी है। शारदा दाएं छोर से 10वें स्थान पर बैठी है। पंक्ति में कुल कितने विद्यार्थी बैठे हैं?

- Ans  A. 36  
 B. 35  
 C. 38  
 D. 39

Question ID : 630680175801  
Status : Answered  
Chosen Option : A

Q.2 किसी निश्चित कूट भाषा में, 'POSITIVE' को 'ISOPEVIT' लिखा जाता है। तो उसी भाषा में 'DISTANCE' को कैसे लिखा जाएगा?

- Ans  A. TSIDECNA  
 B. TSIEDCNA  
 C. TSDIENCA  
 D. TSIDCEAN

Question ID : 630680175808  
Status : Answered  
Chosen Option : A

Q.3 उस विकल्प का चयन करें जो पांचवे अक्षर-समूह से उसी प्रकार संबंधित है, जिस प्रकार पहला अक्षर-समूह दूसरे अक्षर-समूह से संबंधित है और तीसरा अक्षर-समूह चौथे अक्षर-समूह से संबंधित है।  
GBVR : IEZW :: KTNV : MWRD :: DUWC : ?

- Ans  A. FXAH  
 B. GYAH  
 C. FXAI  
 D. FXBH

Question ID : 630680175812  
Status : Answered  
Chosen Option : A

Q.4 एक लड़की की तस्वीर की ओर इशारा करते हुए, समायरा ने कहा, 'वह मेरे पति की सास की इकलौती पुत्री की पुत्री है'। उस लड़की का समायरा से क्या संबंध है?

- Ans  A. बहन  
 B. चाची/बुआ  
 C. पुत्री  
 D. माँ

Question ID : 630680175810  
Status : Answered  
Chosen Option : C

Q.5 उत्तर की ओर अभिमुख होकर एक पंक्ति में बैठे 65 विद्यार्थियों की एक कक्षा में, विवेक दाएं छोर से 19वें स्थान पर है। रंजीता का स्थान बाएं छोर से 28वां है। विवेक के बाईं ओर कितने विद्यार्थी बैठे हैं?

- Ans  A. 44  
 B. 47  
 C. 45  
 D. 46

Question ID : 630680175800  
Status : Answered  
Chosen Option : D

Q.6 P, Q, R, S, T और U नाम की छह लड़कियां केंद्र की ओर अभिमुख होकर एक गोल मेज के परितः बैठी हैं लेकिन जरूरी नहीं कि इसी क्रम में हों। Q, P के बाएं से तीसरे स्थान पर बैठी है। U और P के बीच में केवल T बैठी है। S, U के दाएं से दूसरे स्थान पर बैठी है। R के ठीक बाएं कौन बैठी है?

- Ans  A. Q  
 B. T  
 C. U  
 D. S

Question ID : 630680175799  
Status : Answered  
Chosen Option : D

Q.7 निम्नलिखित समीकरण को सही बनाने के लिए कौन सी दो संख्याओं को आपस में बदलना चाहिए?

$$42 + 12 - 32 \div 8 \times 16 = 10$$

- Ans
- A. 16 और 8
  - B. 42 और 8
  - C. 42 और 16
  - D. 16 और 12

Question ID : 630680175821

Status : Answered

Chosen Option : D

Q.8 चेतना, फिरोजा, जेनी, लतिका और माया एक सीधी पंक्ति में उत्तर की ओर अभिमुख होकर बैठी हैं। माया, चेतना के ठीक दाएं बैठी है। लतिका, फिरोजा के ठीक बाएं बैठी है। फिरोजा, माया के बाएं से तीसरे स्थान पर बैठी है। जेनी के बाएं से दूसरे स्थान पर कौन बैठी है?

- Ans
- A. चेतना
  - B. लतिका
  - C. फिरोजा
  - D. माया

Question ID : 630680175798

Status : Answered

Chosen Option : B

Q.9 जब दर्पण को निचे दर्शाए गए अनुसार 'PQ' पर रखा जाए, तो दिए गए संयोजन के सही दर्पण प्रतिबिंब का चयन करें।

3 4 g 5 N z | P  
Q

- Ans
- A. z N 5 6 4 3
  - B. z N 5 6 4 3
  - C. z N 5 6 4 3
  - D. z N 5 6 4 3

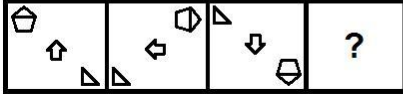
INDIA

Question ID : 630680175817

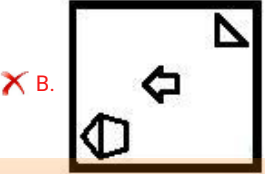
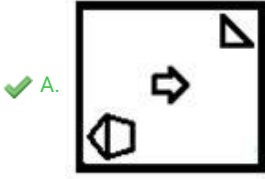
Status : Answered

Chosen Option : B

Q.10 दिए गए विकल्पों में से उस आकृति का चयन करें, जो निम्नलिखित श्रृंखला में प्रश्नवाचक चिन्ह (?) को प्रतिस्थापित कर सकती है।



Ans



Question ID : 630680175815

Status : Answered

Chosen Option : A

Q.11 A, B, C, D, E और F नाम के छह मित्रों में; E की लंबाई C की लंबाई से अधिक है। A की लंबाई F की लंबाई से अधिक है। D की लंबाई B से कम है। D की लंबाई E की लंबाई से अधिक है। केवल दो व्यक्तियों की लंबाई C से कम है। छह मित्रों में किसकी लंबाई तीसरी सबसे अधिक है?

- Ans
- ✗ A. A
  - ✗ B. B
  - ✗ C. D
  - ✓ D. E

Question ID : 630680175803

Status : Answered

Chosen Option : D

Q.12 A & B का अर्थ है कि 'A, B की पुत्री है'  
A % B का अर्थ है कि 'A, B का पिता है'  
A @ B का अर्थ है कि 'A, B की बहन है'  
A # B का अर्थ है कि 'A, B का पुत्र है'  
यदि H % K @ P # C & N है, तो C का H से क्या संबंध है?

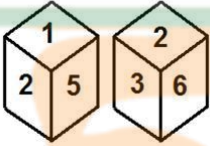
- Ans
- A. बहन
  - B. पुत्री
  - C. भतीजी
  - D. पत्नी

Question ID : 630680175811

Status : Answered

Chosen Option : D

Q.13 एक ही पासे की दो अलग-अलग स्थितियां दर्शाई गई हैं, जिसके छह फलकों पर 1 से 6 तक संख्याएं अंकित हैं। उस संख्या का चयन करें जो '4' दर्शाने वाले फलक के विपरीत फलक पर होगी।



- Ans
- A. 5
  - B. 6
  - C. 2
  - D. 3

Question ID : 630680175818

Status : Answered

Chosen Option : C

Q.14 निम्नलिखित संख्या अक्षर श्रृंखला को देखें और प्रश्न का उत्तर दें।  
(बाएं) 3 4 T 5 H 7 N 8 M 3 2 D 9 L P 6 V 3 4 2 N 4 M 7 H 7 8 L 5 Y 6 5 U P L 5 4 (दाएं)  
यदि उपरोक्त श्रृंखला में सभी अक्षरों को हटा दिया जाता है, तो शेष श्रृंखला में बाएं से चौथी संख्या और दाएं से पांचवीं संख्या का योगफल क्या होगा?

- Ans
- A. 12
  - B. 13
  - C. 14
  - D. 10

Question ID : 630680175806

Status : Answered

Chosen Option : A

Q.15 एक निश्चित कूट में, यदि ' & ' का अर्थ '+' है, '#' का अर्थ 'x' है, '@' का अर्थ '÷' है और '%' का अर्थ '-' है, तो 33 & 11 % (27 @ 9) & (54 % 27) # 3 का मान ज्ञात करें।

- Ans  A. 122  
 B. 134  
 C. 142  
 D. 120

Question ID : 630680175822  
Status : Answered  
Chosen Option : A

Q.16 दिए गए विकल्पों में से उस संख्या का चयन करें, जो निम्नलिखित श्रृंखला में प्रश्नवाचक चिन्ह (?) को प्रतिस्थापित कर सकती है।  
9, 14, 23, 40, 73, ?

- Ans  A. 166  
 B. 138  
 C. 154  
 D. 132

Question ID : 630680175820  
Status : Answered  
Chosen Option : B

Q.17 चार शब्द युग्म दिए गए हैं, जिनमें से तीन किसी न किसी तरीके से एकसमान हैं, और एक असंगत है। उस असंगत शब्द युग्म का चयन करें।

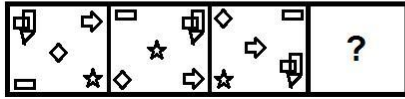
- Ans  A. निमोनिया : फेफड़े  
 B. विटिलिगो : मांसपेशियां  
 C. ग्लॉकोमा : आंखें  
 D. रिकेट्स : हड्डी

Question ID : 630680175814  
Status : Answered  
Chosen Option : B

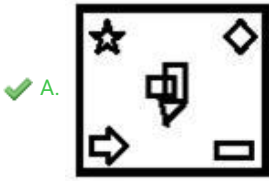
INDIA



Q.18 दिए गए विकल्पों में से उस आकृति का चयन करें, जो निम्नलिखित श्रृंखला में प्रश्नवाचक चिन्ह (?) को प्रतिस्थापित कर सकती है।



Ans



Question ID : 630680175816

Status : Answered

Chosen Option : A

Q.19 सुलोचना एक पार्क में पूर्व दिशा की ओर अभिमुख होकर खड़ी है। फिर वह 45 डिग्री दक्षिणावर्त मुड़ती है और उसके बाद 135 डिग्री वामावर्त मुड़ती है। वह अब किस दिशा की ओर अभिमुख है?

Ans ✗ A. उत्तर-पश्चिम

✗ B. उत्तर-पूर्व

✗ C. दक्षिण

✓ D. उत्तर

Question ID : 630680175809

Status : Answered

Chosen Option : D

Q.20 दिए गए विकल्पों में से उस पद का चयन करें, जो निम्नलिखित श्रृंखला में प्रश्नवाचक चिन्ह (?) को प्रतिस्थापित कर सकता है।

KNT-15, GSN-25, CXH-45, ?, UHV-165

Ans  A. YCB-85

B. YCC-85

C. YDB-90

D. XCB-95

Question ID : 630680175804

Status : Answered

Chosen Option : A

Q.21 चार अक्षर-समूह युग्म दिए गए हैं, जिनमें से तीन किसी न किसी तरीके से एकसमान हैं, और एक असंगत है। उस असंगत अक्षर-समूह युग्म का चयन करें।

Ans  A. RAFT : IZUH

B. CORK : XLIP

C. PACE : KZXV

D. YARN : BZIM

Question ID : 630680175813

Status : Answered

Chosen Option : A

Q.22 शब्द ANOREXIA में अक्षरों के ऐसे कितने युग्म हैं जिनके बीच उतने ही अक्षर हैं जितने कि अंग्रेजी वर्णमाला में होते हैं? (आगे और पीछे दोनों दिशाओं से गिनने पर)

Ans  A. 2

B. 5

C. 4

D. 3

INDIA

Question ID : 630680175805

Status : Answered

Chosen Option : D

Q.23 यदि 12 जुलाई 2009 को रविवार है, तो 14 जुलाई 2014 को सप्ताह का कौन-सा दिन होगा?

Ans  A. रविवार

B. सोमवार

C. मंगलवार

D. शनिवार

Question ID : 630680175807

Status : Answered

Chosen Option : B

Q.24 दिए गए कथनों और निष्कर्षों को ध्यानपूर्वक पढ़ें। यह मानते हुए कि कथनों में दी गई जानकारी सत्य है, भले ही यह सामान्य रूप से ज्ञात तथ्यों से भिन्न प्रतीत होती हो, तय करें कि दिए गए निष्कर्षों में से कौन सा/से निष्कर्ष कथनों का तार्किक रूप से अनुसरण करता है/करते हैं।

कथन:

कुछ याक, बकरियां हैं।

सभी बकरियां, गाय हैं।

निष्कर्ष:

I. कुछ गाय, याक हैं।

II. कुछ गाय, बकरियां हैं।

- Ans  A. केवल II अनुसरण करता है।  
 B. I और II दोनों अनुसरण करते हैं।  
 C. न तो I न ही II अनुसरण करता है।  
 D. केवल I अनुसरण करता है।

Question ID : 630680175802

Status : Answered

Chosen Option : B

Q.25 दिए गए विकल्पों में से उस संख्या का चयन करें, जो निम्नलिखित श्रृंखला में प्रश्नवाचक चिन्ह (?) को प्रतिस्थापित कर सकती है।  
38, 63, 99, 148, 212, ?

- Ans  A. 325  
 B. 242  
 C. 293  
 D. 258

Question ID : 630680175819

Status : Answered

Chosen Option : C

Section : Quantitative Aptitude

Q.1 एक ठोस धात्विक शंकु का वक्र पृष्ठीय क्षेत्रफल  $260\pi\text{ cm}^2$  है और इसकी तिर्यक ऊंचाई 26 cm है। इसे पिघलाया जाता है और आधार त्रिज्या 5 cm वाले एक ठोस लम्बवृत्तीय बेलन में ढाला जाता है। बेलन का संपूर्ण पृष्ठीय क्षेत्रफल ( $\text{cm}^2$  में) क्या है?

- Ans  A.  $320\pi$   
 B.  $300\pi$   
 C.  $370\pi$   
 D.  $350\pi$

Question ID : 630680175845

Status : Answered

Chosen Option : C

Q.2 एक वस्तु का अंकित मूल्य ₹800 है। इसे  $x\%$  की दो क्रमिक छूट के बाद ₹612.50 में बेचा जाता है। यदि उसी अंकित मूल्य पर  $2x\%$  की एकल छूट दी जाती है, तो उस वस्तु का विक्रय मूल्य ज्ञात कीजिए।

- Ans
- A. ₹608
  - B. ₹560
  - C. ₹520
  - D. ₹600

Question ID : 630680175834

Status : Not Attempted and Marked For Review

Chosen Option : --

Q.3 जब 1395, 2247 और 3738 को दो अंकों वाली संख्या  $k$  से विभाजित किया जाता है, तो प्रत्येक मामले में शेषफल  $p$  बचता है।  $(2k - 3p)$  का मान क्या होगा?

- Ans
- A. 4
  - B. 8
  - C. 2
  - D. 6

Question ID : 630680175826

Status : Not Attempted and Marked For Review

Chosen Option : --

Q.4 वस्तु A और B का क्रय मूल्य समान है। A को 40% के लाभ पर बेचा जाता है और B को A के विक्रय मूल्य से ₹64 कम में बेचा जाता है। यदि पूरे सौदे में 20% का लाभ होता है, तो B का विक्रय मूल्य (₹ में) ज्ञात कीजिए।

- Ans
- A. 180
  - B. 150
  - C. 140
  - D. 160

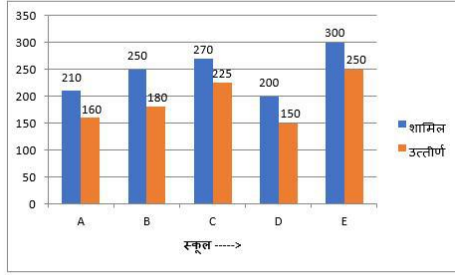
Question ID : 630680175833

Status : Answered

Chosen Option : D

Q.5 निम्नांकित ग्राफ का अध्ययन कीजिए और उसके नीचे दिए गए प्रश्न का उत्तर दीजिए।

ग्राफ 2021 में स्कूलों A, B, C, D और E से एक परीक्षा में शामिल होने वाले और उत्तीर्ण होने वाले विद्यार्थियों की संख्या को दर्शाता है।



स्कूल C और E से परीक्षा में शामिल होने वाले लड़कों और लड़कियों का अनुपात क्रमशः 4 : 5 और 9 : 16 है। C और E से शामिल होने वाली लड़कियों की कुल संख्या, स्कूल A, B और D से उत्तीर्ण होने वाले विद्यार्थियों की कुल संख्या से कितने प्रतिशत कम है (दशमलव के एक स्थान तक सही)?

- Ans
- A. 38.6%
  - B. 28.4%
  - C. 30.2%
  - D. 43.2%

Question ID : 630680175847

Status : Answered

Chosen Option : C

Q.6 रूपा की बचत उसके व्यय का 16% है। यदि उसकी बचत में 25% की वृद्धि होती है और व्यय में 10.5% की वृद्धि होती है, तो उसकी आय में प्रतिशत वृद्धि ज्ञात कीजिए।

- Ans
- A. 12%
  - B. 14%
  - C. 14.5%
  - D. 12.5%

Question ID : 630680175832

Status : Not Attempted and Marked For Review

Chosen Option : --

Q.7 पाइप A और B एक टैंक को क्रमशः 18 घंटे,  $22\frac{1}{2}$  घंटे में भर सकते हैं। पाइप C एक खाली करने वाला पाइप है। जब तीनों पाइपों को एक साथ 3 घंटे के लिए खोल दिया जाता है, तो टैंक का 20% भाग भरा जा सकता है। A और B को मिलाकर 4 घंटे के लिए खोला जाता है, फिर A को बंद कर दिया जाता है और C को तुरंत B के साथ खोल दिया जाता है। पूरा टैंक कुल कितने समय (घंटों में) में भर जाएगा?

- Ans
- A. 60
  - B. 58
  - C. 57
  - D. 52

Question ID : 630680175841

Status : Not Attempted and Marked For Review

Chosen Option : --

Q.8 ₹21,200 का ऋण ₹x की दो समान वार्षिक किश्तों में वापस चुकाया जाना है। यदि ब्याज की दर वार्षिक रूप से चक्रवृद्धि की जाने वाली 12% वार्षिक है, तो x का मान क्या है?

- Ans
- A. ₹12,554
  - B. ₹12,544
  - C. ₹12,530
  - D. ₹12,540

Question ID : 630680175838

Status : Not Answered

Chosen Option : --

Q.9  $\frac{7}{8} \div 4\frac{2}{3}$  of  $1\frac{1}{4} - \frac{1}{4} + 1\frac{1}{3} \div 3\frac{3}{5}$  of  $\frac{5}{6} - \frac{5}{18}$  का मान ज्ञात कीजिए।

- Ans
- A.  $\frac{1}{5}$
  - B.  $\frac{1}{15}$
  - C.  $\frac{3}{10}$
  - D.  $\frac{1}{30}$

Question ID : 630680175823

Status : Answered

Chosen Option : B

Q.10 A की वर्तमान आयु (वर्षों में) का दो गुना, B की वर्तमान आयु (वर्षों में) के तीन गुने से एक वर्ष कम है। अब से 5 वर्ष बाद, A की आयु (वर्षों में) B की वर्तमान आयु (वर्षों में) के दोगुने से 2 वर्ष कम होगी। A और B की वर्तमान आयु (वर्षों में) के बीच कितना अंतर है?

- Ans
- A. 8
  - B. 6
  - C. 7
  - D. 9

Question ID : 630680175843

Status : Not Attempted and Marked For Review

Chosen Option : --

Q.11 A और B ने  $\frac{2}{3} : \frac{5}{9}$  के अनुपात में अपनी पूँजी लगाकर एक साझेदारी की। एक सक्रिय साझेदार होने के नाते A को उसकी सेवाओं के लिए वार्षिक लाभ का 34% प्राप्त हुआ। यदि B को वार्षिक लाभ में से उसके हिस्से के रूप में ₹15 लाख प्राप्त होते हैं, तो वार्षिक लाभ में A द्वारा प्राप्त कुल राशि (₹ लाख में) कितनी थी?

- Ans
- A. 36
  - B. 32
  - C. 35
  - D. 30

Question ID : 630680175836

Status : **Not Attempted and Marked For Review**

Chosen Option : --

Q.12 एक निश्चित धनराशि के लिए 20% वार्षिक ब्याज दर पर  $5\frac{1}{2}$  वर्ष का साधारण ब्याज, उसी धनराशि के लिए, अर्धवार्षिक रूप से चक्रवृद्धि होने वाली समान ब्याज दर पर  $1\frac{1}{2}$  वर्ष में प्राप्त मिश्रधन से ₹2,772 कम है। वह धनराशि (₹ में) ज्ञात कीजिए।

- Ans
- A. 14,000
  - B. 12,000
  - C. 12,500
  - D. 11,500

Question ID : 630680175837

Status : **Answered**

Chosen Option : B

Q.13 एक त्रिभुज की भुजाएँ 48 cm, 55 cm और 73 cm हैं। यह एक घेरे में उत्कीर्णित है। त्रिभुज के क्षेत्रफल को छोड़कर वृत्त का क्षेत्रफल ( $cm^2$  में) क्या है? ( $\pi = \frac{22}{7}$  का प्रयोग करें और निकटतम पूर्णांक तक सही मान ज्ञात करें)

- Ans
- A. 2867
  - B. 2885
  - C. 2857
  - D. 2875

Question ID : 630680175844

Status : **Not Attempted and Marked For Review**

Chosen Option : --

Q.14 यदि  $8947x19y2$  एक ऐसी 9 अंकों वाली संख्या है जो 72 से विभाज्य है, तो  $(3x + 4y)$  का उच्चतम संभाव्य मान क्या होगा?

- Ans
- A. 52
  - B. 51
  - C. 47
  - D. 44

Question ID : 630680175825

Status : **Not Attempted and Marked For Review**

Chosen Option : --

Q.15 एक समूह में कुछ लोगों का औसत वजन 66 kg था। जब 57.4 kg और 63.6 kg वजन वाले दो लोगों ने समूह छोड़ दिया और 65 kg, 78.8 kg और 67.2 kg वजन वाले तीन लोग समूह में शामिल हो गए, तो औसत वजन में 1.5 kg की वृद्धि हुई। शुरू में समूह में कितने लोग थे?

- Ans
- A. 12
  - B. 10
  - C. 20
  - D. 15

Question ID : 630680175829

Status : Answered

Chosen Option : D

Q.16 घोल A और B में अम्ल का, जल से अनुपात क्रमशः 4 : 11 और 3 : 7 है। तीन लीटर A को पाँच लीटर B के साथ मिलाया जाता है और फिर परिणामी मिश्रण में एक लीटर जल मिलाया जाता है। अंतिम मिश्रण में अम्ल का प्रतिशत क्या है?

- Ans
- A.  $27\frac{1}{2}\%$
  - B.  $26\frac{2}{3}\%$
  - C.  $28\frac{3}{4}\%$
  - D.  $25\frac{5}{9}\%$

Question ID : 630680175830

Status : Answered

Chosen Option : D

Q.17 A और B एक कार्य को क्रमशः 18 दिन और 40 दिन में पूरा कर सकते हैं। यदि वे पहले दिन B से शुरू करते हुए एकांतर दिनों (बारी-बारी से एक-एक दिन) में कार्य करते हैं, तो कार्य कितने दिनों में पूरा होगा?

- Ans
- A.  $25\frac{3}{20}$
  - B.  $26\frac{1}{5}$
  - C.  $25\frac{1}{10}$
  - D.  $24\frac{24}{29}$

Question ID : 630680175840

Status : Answered

Chosen Option : A



Q.18  $\Delta PQR$  के भीतर स्थित  $O$  एक ऐसा बिंदु है कि  $\angle POQ = \angle QOR = \angle ROP$ ,  $\angle PQR = 60^\circ$  तथा  $OP = 16$  cm और  $OR = 12$  cm है।  $OQ$  की लंबाई (cm में) कितनी है?

- Ans
- A.  $8\sqrt{3}$
  - B.  $6\sqrt{6}$
  - C.  $8\sqrt{6}$
  - D.  $9\sqrt{3}$

Question ID : 630680175846

Status : Not Attempted and Marked For Review

Chosen Option : --

Q.19 ₹4,559 की राशि को A, B और C के बीच इस प्रकार बांटा गया है कि A और B के हिस्सों का अनुपात 4 : 7 है तथा B और C के हिस्सों का अनुपात 5 : 6 है। C और A के हिस्सों के बीच का अंतर ज्ञात कीजिए।

- Ans
- A. ₹1,081
  - B. ₹987
  - C. ₹940
  - D. ₹1,034

Question ID : 630680175835

Status : Answered

Chosen Option : D

Q.20 X और Y मिलकर एक निश्चित कार्य को 48 दिन में पूरा कर सकते हैं। उन्होंने 15 दिन तक एक साथ मिलकर कार्य किया और फिर Z उनके साथ शामिल हो गया। तीनों ने मिलकर शेष कार्य को 22 दिन में पूरा किया। यदि Y द्वारा 8 दिन में किया गया कार्य, Z द्वारा 12 दिन में किए गए कार्य के बराबर है, तो X अकेले मूल कार्य का  $\frac{1}{12}$  भाग कितने समय में पूरा कर सकता है?

- Ans
- A. 15 दिन
  - B. 18 दिन
  - C. 16 दिन
  - D. 20 दिन

Question ID : 630680175842

Status : Not Answered

Chosen Option : --

Q.21 एक वस्तु का मूल्य क्रमिक रूप से 20% और 30% बढ़ जाता है और फिर 38% घट जाता है। यदि इसका अंतिम मूल्य ₹483.60 है, तो इसका प्रारंभिक मूल्य कितना है?

- Ans
- A. ₹500
  - B. ₹520
  - C. ₹600
  - D. ₹480

Question ID : 630680175831

Status : Answered

Chosen Option : A

Q.22 यदि  $x = \sqrt{31 + 2\sqrt{30}} - \sqrt{31 - 2\sqrt{30}}$  है, तो  $x$  का मान क्या है?

- Ans
- A.  $2\sqrt{15}$
  - B.  $2\sqrt{2}$
  - C. 4
  - D. 2

Question ID : 630680175824

Status : Answered

Chosen Option : A

Q.23 ट्रेनों A और B की लंबाई का अनुपात 2 : 3 है और उनकी चाल क्रमशः 60 km/h और 72 km/h है। विपरीत दिशाओं में यात्रा करते समय ट्रेन A और B एक दूसरे को पूरी तरह से 15 सेकंड में पार करती हैं। ट्रेन B को 370 m लंबे पुल को पूरी तरह से पार करने में कितना समय (सेकंड में) लगेगा?

- Ans
- A. 32
  - B. 35
  - C. 27
  - D. 30

Question ID : 630680175839

Status : Answered

Chosen Option : B

Q.24 एक व्यक्ति ने पहले घंटे में 36 km/h की चाल से यात्रा की, अगले 5 घंटे में 50 km/h की चाल से यात्रा की और अगले  $x$  घंटे में 75 km/h की चाल से यात्रा की। यदि पूरी यात्रा में उसकी औसत चाल 58.6 km/h थी, तो  $x$  का मान ज्ञात कीजिए।

- Ans
- A. 2
  - B. 4
  - C. 3.5
  - D. 4.5

Question ID : 630680175828

Status : Answered

Chosen Option : B

Q.25 एक परीक्षा में विद्यार्थियों का औसत स्कोर 64 है। उत्तीर्ण विद्यार्थियों का औसत स्कोर 72 है और अनुत्तीर्ण विद्यार्थियों का औसत स्कोर 42 है। अनुत्तीर्ण विद्यार्थियों की संख्या का, पास होने वाले विद्यार्थियों की संख्या से अनुपात क्या है?

- Ans
- A. 2 : 5
  - B. 3 : 1
  - C. 4 : 11
  - D. 5 : 13

Question ID : 630680175827

Status : Answered

Chosen Option : C